

GABARITO – TRIPULANTE OPERACIONAL / 2009

1ª QUESTÃO	A	B	C	D
2ª QUESTÃO	A	B	C	D
3ª QUESTÃO	A	B	C	D
4ª QUESTÃO	A	B	C	D
5ª QUESTÃO	A	B	C	D
6ª QUESTÃO	A	B	C	D
7ª QUESTÃO	A	B	C	D
8ª QUESTÃO	A	B	C	D
9ª QUESTÃO	A	B	C	D
10ª QUESTÃO	A	B	C	D
11ª QUESTÃO	A	B	C	D
12ª QUESTÃO	A	B	C	D
13ª QUESTÃO	A	B	C	D
14ª QUESTÃO	A	B	C	D
15ª QUESTÃO	ANULADA			
16ª QUESTÃO	A	B	C	D
17ª QUESTÃO	A	B	C	D
18ª QUESTÃO	A	B	C	D
19ª QUESTÃO	A	B	C	D
20ª QUESTÃO	A	B	C	D

21ª QUESTÃO	A	B	C	D
22ª QUESTÃO	A	B	C	D
23ª QUESTÃO	A	B	C	D
24ª QUESTÃO	A	B	C	D
25ª QUESTÃO	A	B	C	D
26ª QUESTÃO	A	B	C	D
27ª QUESTÃO	A	B	C	D
28ª QUESTÃO	A	B	C	D
29ª QUESTÃO	A	B	C	D
30ª QUESTÃO	A	B	C	D
31ª QUESTÃO	A	B	C	D
32ª QUESTÃO	A	B	C	D
33ª QUESTÃO	A	B	C	D
34ª QUESTÃO	A	B	C	D
35ª QUESTÃO	A	B	C	D
36ª QUESTÃO	A	B	C	D
37ª QUESTÃO	A	B	C	D
38ª QUESTÃO	A	B	C	D
39ª QUESTÃO	A	B	C	D
40ª QUESTÃO	A	B	C	D

Belo Horizonte, 27 de junho de 2009.

FRANCISCO DE ASSIS LEAL DA SILVA, TEN CEL PM
CHEFE DO CRS

PROVA DO PROCESSO SELETIVO INTERNO PARA ADMISSÃO AO CURSO DE TRIPULANTE OPERACIONAL POLICIAL E DE DEFESA CIVIL PARA O ANO DE 2009.



**DIRETORIA DE RECURSOS HUMANOS
CENTRO DE RECRUTAMENTO E SELEÇÃO**



**PROVA DO PROCESSO SELETIVO INTERNO PARA ADMISSÃO AO
CURSO DE TRIPULANTE OPERACIONAL POLICIAL E DE DEFESA
CIVIL PARA O ANO DE 2009.**

TRIPULANTE OPERACIONAL/2009

(Edital DRH/CRS nº 10/2009, de 29 de maio de 2009)

Língua Portuguesa, Técnica Policial, Matemática e Geografia.

NOME: _____

LOCAL DE PROVA: _____ SALA: _____

INSTRUÇÕES AOS CANDIDATOS:

1. Abra este caderno de prova somente quando autorizado.
2. Esta prova contém 40 (quarenta) questões valendo 3 (três) pontos cada e valor total de 120 (cento e vinte) pontos.
3. O tempo máximo permitido para a realização da prova objetiva será de 3 (três) horas incluindo o preenchimento da folha de respostas.
4. Responda as questões e marque a opção desejada na folha de respostas, usando caneta (tinta azul ou preta).
5. Para cada questão existe somente uma resposta.
6. Prova sem consulta.
7. Não será admitido nenhum tipo de rasura na folha de respostas. As questões rasuradas ou em branco ou com dupla marcação serão consideradas nulas para o candidato.
8. É proibido o uso de máquinas calculadoras, telefones celulares ou outros similares.
9. Iniciadas as provas, os candidatos somente poderão deixar a sala, e a esta retornar, exclusivamente para uso de sanitários ou bebedouros, e devidamente acompanhados por fiscal do concurso.
10. Ao final da prova, entregue ao aplicador a folha de respostas, devidamente preenchida, assinada e conferida.

“O check-in by phone foi descontinuado”

Ruth de Aquino

O Ministério das Comunicações adverte: falar com companhias aéreas faz mal à saúde. Deveria haver um adesivo no aparelho de telefone. Na semana passada, tentei em vão fazer algumas operações simples com a Varig por telefone. Primeiro, o check-in na ponte aérea. A gravação, em telemarketês: “Prezado cliente, o check-in by phone foi descontinuado. Mas o senhor permanecerá com a facilidade da web check-in para agilizar sua viagem. Consulte nossos analistas através da Central Smiles”.

Descontinuado? Permanecer com a facilidade? Através da central? Consulte nossos analistas? Não preciso de analistas, mas de atendentes. Pensando bem, todos nós precisamos de analistas depois de falar com a Varig.

Telefone para a Central Smiles. “If you speak English please press four (4).” Será que o programa de milhagem da Varig está bombando assim entre os estrangeiros? “Bom dia, se você é participante digite 2.” “Digite sua conta Smiles com nove algarismos.” “Digite sua senha.” “Visite nosso site blá-blá-blá. Para saldo, digite 2. Blá-blá-blá. Para reserva de bilhete, digite 4.” Peço para reservar um bilhete de milhas Smiles. “Infelizmente, a gente não está fazendo reservas ou emissões de bilhetes Smiles.” Por quê? “Porque a Gol comprou a Varig, e a gente está recadastrando todos os passageiros.” Posso fazer uma reserva para quando? “Só a partir de 16 de novembro. Aí, a gente vai poder estar fazendo reservas.” Vai poder estar? O gerundismo já é uma praga que pegou. Mas eis que temos uma nova doença perigosa: o infinitivismo. Começo a desconfiar que, como essas ligações são “tarifadas” e nós pagamos o custo de uma ligação local, a conjugação de verbos no infinitivo e no gerúndio pode ser uma estratégia para alongar o tempo do telefonema.

Tecla 1 se for hipertenso. Tecla 2 se tiver paciência de Jô. Tecla 3 se quiser adquirir vícios de linguagem.

Então, o.k., vou querer estar comprando uma passagem. “A senhora deve estar ligando para a Central de Vendas, número tal.” Antes de desligar, escuto como se faz o processo de recadastramento na Central Smiles. Espero terminar a gravação e, quando estou prestes a desligar, tomo um baita susto. Uma voz vem do além: “A senhora entendeu?”. Só aí percebo que aquele lero-lero final em tom monocórdio vinha de uma pessoa real do outro lado do fio. Incrível. Estão treinando as “analistas” para falar como se fossem gravações. Respondo meio sem graça, não tinha prestado atenção. Eu não quero me recadastrar, eu quero comprar uma passagem.

Ligo para a Central de Vendas, e... o número estava errado, já tinha mudado, embora a Central Smiles não soubesse. Fiquei pensando, enquanto procurava o número certo. Já que a Gol comprou a Varig e ninguém pode emitir ou reservar bilhete de milhas, deveriam mudar o nome do programa. Smiles ficou parecendo gozação. Ah, os “analistas” da Varig prometem “benefícios extras” depois do recadastramento. Fazem

suspense. Talvez porque ninguém saiba, nem eles mesmos, que benefícios são esses.

Felizmente, encontro o número da Central de Vendas. Ligo. “Bem-vindo à Central de Relacionamento.” Como assim? Eu não estou em busca de relacionamento. Nem do parceiro ideal. Senão, não ligaria para a Varig. Quero só comprar uma passagem. “Chamada tarifada ao custo de ligação local mais impostos.” Aí eu me arrepio. Mais impostos? Nãããã. “Para vãos Gol, tecle 1. Para vãos Varig, tecle 2. Blá-blá-blá tecle 1. Blá-blá-blá tecle 2. Um momento que nosso analista irá atendê-lo.” Atende alguém, com nome e sobrenome. Enfim. Eu queria comprar uma passagem nacional. “Infelizmente, nosso sistema caiu. A senhora pode estar ligando de novo daqui a uma ou duas horas?” Posso, doutor analista, onde está o divã?

Tecla 1 se você for hipertenso, e uma luz vermelha se acenderá, para cortar a ligação. Tecla 2 se você tiver uma paciência de Jó, e será encaminhado a um novo leque de números, com orientações múltiplas sobre o site. Tecla 3 se você quiser adquirir vícios de linguagem e ouvirá gravações de substantivos, verbos e advérbios, enfileirados quase à revelia numa frase, como amigos sem conversa.

Para garantir o nível do debate, os comentários desta coluna serão submetidos à moderação antes de ir ao ar.

Disponível em: <<http://revistaepoca.globo.com/Revista/Epoca/1,,EMI16221-15230,00.html>>

LÍNGUA PORTUGUESA

INTERPRETAÇÃO DE TEXTO

1ª QUESTÃO – Segundo o 5º parágrafo do texto é CORRETO afirmar que a autora:

- A. () percebeu que o atendimento foi realizado por uma atendente real.
- B. () não percebeu que o atendimento foi feito por uma atendente virtual.
- C. () percebeu que o atendimento foi realizado por uma atendente virtual.
- D. () não percebeu que o atendimento foi feito por uma atendente real.

2ª QUESTÃO – Leia o seguinte trecho:

“Descontinuado? Permanecer com a facilidade? Através da central? Consulte nossos analistas? Não preciso de analistas, mas de atendentes. Pensando bem, todos nós precisamos de analistas depois de falar com a Varig.”

Pode-se dizer, a respeito da seguinte passagem, que é CORRETA a opção:

- A. () Todos precisam de psicólogos antes de comprar qualquer passagem aérea.
- B. () Segundo a autora, a Varig foi escolhida pela excelência na qualidade dos serviços prestados.
- C. () A palavra “analistas” possui ambiguidade.
- D. () A facilidade do atendimento das companhias aéreas é inquestionável para a autora.

3ª QUESTÃO – De acordo com o primeiro parágrafo do texto é CORRETO afirmar que:

- A. () o Ministério das Comunicações dá apoio integral ao bom atendimento das empresas de aviação comercial.
- B. () a companhia aérea poderá solucionar operações simples pela internet, pois o atendimento via telefone foi interrompido.
- C. () segundo a gravação da companhia aérea, a viagem certamente agilizar-se-á pelo telefone.
- D. () a impropriedade das tentativas em falar com a Varig se deve à falta de competência do consumidor.

4ª QUESTÃO – Conforme o 7º parágrafo do texto está CORRETA a alternativa:

- A. () O fato da chamada ser cobrada produz indignação na autora.
- B. () A Central de Vendas lida com todos os tipos de relacionamento.
- C. () A autora aproveita a ligação para resolver outro problema, além da compra da passagem aérea.
- D. () O atendimento ao cliente, via telefone, é feito de maneira desleal.

PROVA DO PROCESSO SELETIVO INTERNO PARA ADMISSÃO AO CURSO DE TRIPULANTE OPERACIONAL POLICIAL E DE DEFESA CIVIL PARA O ANO DE 2009.

5ª QUESTÃO – De acordo com texto, a conjugação de verbos no infinitivo e no gerúndio pode ser uma estratégia que:

- A. () facilita o atendimento na Central de Relacionamento.
- B. () encurta a durabilidade das chamadas.
- C. () gera lucros, pois as ligações são tarifadas.
- D. () modifica para melhor a linguagem dos atendimentos telefônicos.

GRAMÁTICA

6ª QUESTÃO – As expressões sublinhadas apresentam sua correspondência CORRETA em:

- A. () “Ligo para a Central de Vendas, e... o número estava errado, já tinha mudado, embora a Central Smiles não soubesse.” (=causa)
- B. () “Espero terminar a gravação e, quando estou prestes a desligar, tomo um baita susto.” (=tempo)
- C. () “Já que a Gol comprou a Varig e ninguém pode emitir ou reservar bilhete de milhas, deveriam mudar o nome do programa.” (=oposição)
- D. () “Não preciso de analistas, mas de atendentes.” (=adição)

7ª QUESTÃO – Marque a opção que contenha palavras que formem plural metafônico:

- A. () Adorno, globo, gosto.
- B. () Almoço, esposo, bolso.
- C. () Polvo, soro, estojo.
- D. () Corpo, esforço, rogo.

8ª QUESTÃO – Quanto à ortografia, assinale a alternativa em que TODAS as palavras foram grafadas CORRETAMENTE:

- A. () Assoriano, confete, hereje.
- B. () Seriema, umedecer, obsessão.
- C. () Ultraje, colisão, óbulo.
- D. () Lagiano, curtume, entupir.

9ª QUESTÃO – Assinale a alternativa cujo termo destacado exprima CORRETAMENTE a relação que está entre parênteses:

- A. () A viagem de Carlos, durante as férias, foi de carro. (=meio)
- B. () Descendia de família rica. (=conformidade)
- C. () Discorreu sobre o assunto do qual falavam brilhantemente. (=direção)
- D. () A construção foi feita com casas de madeira. (=instrumento)

10ª QUESTÃO – Leia:

- I. *Vendeu-se bem aquele apartamento.*
- II. *Pensaste sobre o que falei ontem?*
- III. *São felizes o pai e a filha.*
- IV. *Havia vítimas fatais no acidente.*

O sujeito se encontra CORRETAMENTE e RESPECTIVAMENTE classificado em:

- A. () Oculto, oculto, oração sem sujeito, oração sem sujeito.
- B. () Oração sem sujeito, composto, oculto, indeterminado.
- C. () Indeterminado, oculto, composto, oração sem sujeito.
- D. () Indeterminado, composto, composto, indeterminado.

TÉCNICA POLICIAL

11ª QUESTÃO – A Polícia Orientada por Resultados parte de uma análise que cada comando, nos diversos níveis, define como organizar, dispor no espaço urbano e gerencial a Polícia Militar em sua circunscrição, com o objetivo de produzir serviços de qualidade e que atendam aos anseios do público alvo desta prestação de serviços. Este modelo de gestão pública por resultados é norteado pelo seguinte princípio estratégico:

- A. () Promover a vigilância das áreas de preservação do patrimônio natural e cultural do Município, bem como preservar mananciais e a defesa da fauna e da flora.
- B. () Coordenar as atividades com as ações do Estado, no sentido de oferecer e obter colaboração na segurança pública e outras de interesse comum, mediante convênio.
- C. () Regionalizar as Atividades de Polícia Ostensiva e Valorização das Unidades Básicas de Policiamento (UEOp que possuem responsabilidade territorial).
- D. () Empregar preferencialmente o policiamento no processo a pé, mais próximo e em contato mais estreito com as pessoas com resposta ao maior número possível de acionamentos, tendentes à sua totalidade.

12ª QUESTÃO – Considere a seguinte situação em que um policial esteja entrando em uma sala, onde um homem armado possa estar escondido. À frente deste policial há um sofá, e, um pouco atrás, um armário escuro com a porta entreaberta. O que demanda maior atenção:

- A. () O sofá.
- B. () Atrás da porta.
- C. () Próximo à parede lateral.
- D. () O armário.

PROVA DO PROCESSO SELETIVO INTERNO PARA ADMISSÃO AO CURSO DE TRIPULANTE OPERACIONAL POLICIAL E DE DEFESA CIVIL PARA O ANO DE 2009.

13ª QUESTÃO – O geoprocessamento é uma ferramenta possibilitadora da construção de mapas de criminalidade, como atividade científica permite ao policiamento melhor execução dentro da área de responsabilidade das respectivas Unidades. Por intermédio da utilização desta tecnologia no combate a violência pode-se identificar:

- A. () Tendências e padrões do fenômeno e transparência das atividades desempenhadas pela polícia, de forma a permitir um maior controle pela população.
- B. () Maior enfoque para a necessidade de um envolvimento comunitário, na busca da excelência organizacional da Polícia Militar.
- C. () Parceria e cooperação entre a Polícia Militar e a comunidade, na identificação dos problemas que lhes afetam, na sua discussão compartilhada e na busca de soluções.
- D. () O senso de legalidade é um juízo de valor o qual orienta a conduta de todo e qualquer profissional de segurança pública.

14ª QUESTÃO – A defesa social manifesta-se, em sua concepção moderna, por intermédio da prevenção de delitos e do tratamento do delinqüente. Neste caso a Polícia Militar atua, constitucionalmente, no empenho prioritário, na prevenção e, fora de qualquer dúvida, no entrelaçamento desta com as teorias sociológicas do controle social. É princípio de polícia comunitária para atingirmos os melhores resultados:

- A. () Garantir uma orientação mais adequada da população na tomada de providências judicialmente cabíveis.
- B. () Decidir conjuntamente, com as lideranças dos bairros, os locais e os horários de presença policial.
- C. () Formar Conselhos Locais da Cidadania, com função de planejar e avaliar as ações da política desenvolvida no Centro de Referência do Cidadão -CRC.
- D. () Promover a fiscalização da utilização adequada dos parques, jardins, praças e bens de domínio público, pertencentes ao município.

15ª QUESTÃO – ANULADA - As Guardas Municipais foram concebidas na Carta Magna de 1.988, são corpos de segurança vinculados funcional e juridicamente ao Poder Executivo Municipal. São atribuições das guardas municipais:

- I - promover a vigilância dos logradouros públicos municipais, na realização da segurança preventiva diurna e noturna;
- II - desenvolver e implantar programas de capacitação e divulgação de ações de auto-defesa às comunidades municipais;
- III - orientar e promover a defesa de grupos comunitários reivindicadores de ações coletivas;
- IV - colaborar com a fiscalização da Prefeitura na aplicação da legislação relativa ao exercício do poder de polícia administrativa do Município.

- A. () Apenas a II e III.
- B. () Apenas a IV e I.
- C. () Apenas a III e IV.
- D. () Apenas a I e IV.

16ª QUESTÃO – O Centro de Referência do Cidadão busca identificar situações de violação de direitos humanos, compreender suas causas e seus fatores, para promover a efetiva restauração dos direitos lesados e para, principalmente, propor ações preventivas capazes de, ao mesmo tempo, evitar violência e integrar todos os implicados num processo emancipatório de pacificação social. São objetivos específicos do CRC:

I - ampliar o acesso do cidadão a serviços públicos essenciais;

II - constituir uma rede de entidades e movimentos para proteção e promoção dos direitos humanos com base nos discursos comunitários - identificados - de resolução de problemas;

III - reunir em um só local (espaço/equipamento público) órgãos estatais e não governamentais com o escopo de auxiliar os cidadãos na resolução de conflitos sociais por meio da construção e aplicação participativa dos direitos;

IV - propiciar maior transparência à gestão de recursos públicos e estabelecer a co-gestão comunitária dos serviços financiados;

- A. () Apenas a I e III.
- B. () Apenas a IV e I.
- C. () Apenas a III e IV.
- D. () Apenas a II e III.

17ª QUESTÃO – Em novembro de 1997, a Sociedade Brasileira de Defesa da Tradição Família e Propriedade (DFP) editou e distribuiu uma cartilha intitulada “*SOS Fazendeiro - Guia prático de prevenções de invasão de terra*”, destinada a orientar os proprietários no seguinte aspecto:

- A. () Em caso de grilagem, promover de forma democrática a distribuição das terras.
- B. () Prevenir ameaça de invasão.
- C. () Fazer com que cada posseiro divida os futuros lucros com o antigo proprietário.
- D. () Impedir invasões com o uso de força moderada e apoio policial, se necessário for.

18ª QUESTÃO – No contexto da cobertura policial aos oficiais de justiça, durante um gerenciamento de crise com repercussão na ordem social, independente do número de famílias invasoras, quais são as premissas básicas a serem observadas:

- A. () Promover a reintegração de posse com um menor número de feridos possíveis e buscar cumprir os mandados de forma legal.
- B. () Salvar vidas e cumprir a lei.
- C. () Cercar a área e providenciar a prisão dos ocupantes.
- D. () Interagir com representantes dos Direitos Humanos, a fim de demonstrar profissionalismo na ação e recomendar, primeiramente, a saída de crianças e mulheres.

PROVA DO PROCESSO SELETIVO INTERNO PARA ADMISSÃO AO CURSO DE TRIPULANTE OPERACIONAL POLICIAL E DE DEFESA CIVIL PARA O ANO DE 2009.

19ª QUESTÃO – De acordo com a Diretriz de Produção de Serviços de Segurança Pública-02/2002 do Comando-Geral, é correto afirmar que:

I - Esgotadas todas as formas e alternativas de solução pacífica da questão, no caso de autorização de emprego de força necessária para garantir a ordem judicial, será solicitada a presença do Comitê Permanente de Crise para participar "in loco" da ação policial.

II - Em razão da possível existência de armadilhas no local, o Cmt da Força-Tarefa poderá utilizar de máquinas pesadas (patrolas) a fim de potencializar a segurança da tropa empenhada na operação.

III - O terreno ocupado será articulado pela Polícia Militar em setores de atuação, pautando suas ações de acordo com princípios pré-estabelecidos em normas.

IV - Respeitadas as particularidades de cada caso o Comandante poderá determinar que haja uma equipe de civis em apoio, para desmontagem e retirada dos materiais do local ocupado, deixando-os que dêem destino a todos este material.

- A. () Apenas a II, III e IV.
- B. () Apenas a I, III e IV.
- C. () Apenas a I, II e III.
- D. () Apenas a I, II e IV.

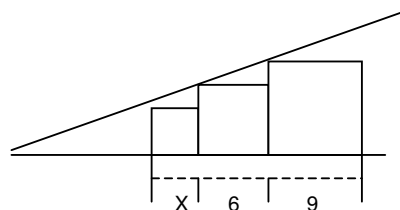
20ª QUESTÃO – Sabe-se que ocorrem três passos no processo mental de um suspeito agressivo, ao atacar um policial. Quais são esses passos:

- A. () Abrigar, decidir e agir.
- B. () Identificar, decidir e agir.
- C. () Abrigar, controlar e agir.
- D. () Controlar, decidir e agir.

MATEMÁTICA

21ª QUESTÃO – Sabendo que, na figura abaixo, temos três quadrados. O valor de X é?

- A. () 4
- B. () 3
- C. () 2
- D. () 1



22ª QUESTÃO – Se um produto cujo preço é R\$ 400,00 está sendo vendido por R\$ 372,00, então o desconto dado é de:

- A. () 5%
- B. () 6%
- C. () 7%
- D. () 8%

PROVA DO PROCESSO SELETIVO INTERNO PARA ADMISSÃO AO CURSO DE TRIPULANTE OPERACIONAL POLICIAL E DE DEFESA CIVIL PARA O ANO DE 2009.

23ª QUESTÃO – Percorrendo 85% de certo percurso, ficam faltando 180 Km para completá-lo. Quantos quilômetros têm esse percurso?

- A. () 1.020 Km
- B. () 1.200 Km
- C. () 1.120 Km
- D. () 1.210 Km

24ª QUESTÃO – O preço de uma pizza é proporcional a sua área. Uma pizza grande custa R\$ 18,00 e tem diâmetro de 42cm. O preço de uma minipizza, cujo diâmetro é 14cm, é:

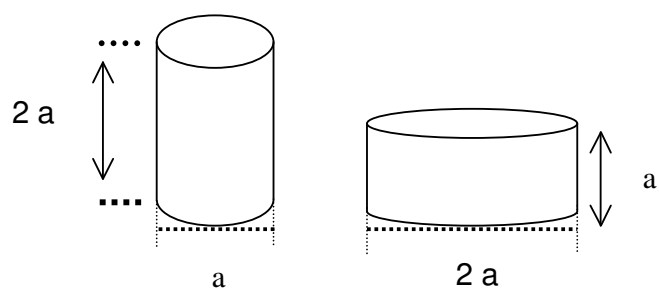
- A. () R\$ 1,50
- B. () R\$ 2,50
- C. () R\$ 3,00
- D. () R\$ 2,00

25ª QUESTÃO – O volume de uma caixa cúbica é 216 litros. A medida de sua diagonal, em centímetros, é:

- A. () 60
- B. () 6
- C. () $60\sqrt{3}$
- D. () $200\sqrt{3}$

26ª QUESTÃO – Considere os dois cilindros circulares retos abaixo representados. Se V_1 é o volume do cilindro de maior altura e V_2 é o volume do outro cilindro, é verdade que:

- A. () $V_1 = 2V_2$
- B. () $V_1 = \frac{V_2}{2}$
- C. () $V_1 = V_2$
- D. () $V_1 = \frac{V_2}{4}$



PROVA DO PROCESSO SELETIVO INTERNO PARA ADMISSÃO AO CURSO DE TRIPULANTE OPERACIONAL POLICIAL E DE DEFESA CIVIL PARA O ANO DE 2009.

27ª QUESTÃO – O volume interno da carreta de um caminhão tanque é de 85m^3 . Quantos litros de combustível essa carreta poderá transportar quando o tanque estiver totalmente cheio?

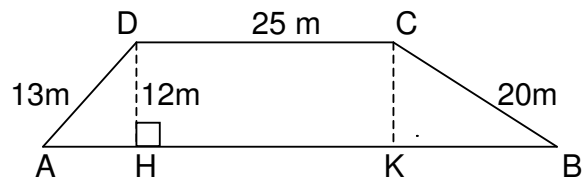
- A. () 850
- B. () 8.500
- C. () 85
- D. () 85.000

28ª QUESTÃO – Dez homens levam 9 horas para executar uma tarefa. O tempo que seis homens em iguais condições dos anteriores levarão para fazer a mesma tarefa é de aproximadamente:

- A. () 15 horas
- B. () 12 horas
- C. () 13 horas
- D. () 14 horas

29ª QUESTÃO – Em um vôo panorâmico, um tripulante avistou uma área verde com as medidas representadas na figura abaixo. O valor desta área em m^2 é igual a:
Dados: DH e CK são perpendiculares a AB.

- A. () 366 m^2
- B. () 426 m^2
- C. () 360 m^2
- D. () 852 m^2



30ª QUESTÃO – Aumentando-se a medida da base de um retângulo em 10% e a medida de sua altura em 20%, a área desse retângulo aumenta:

- A. () 20%
- B. () 22%
- C. () 32%
- D. () 30%

GEOGRAFIA

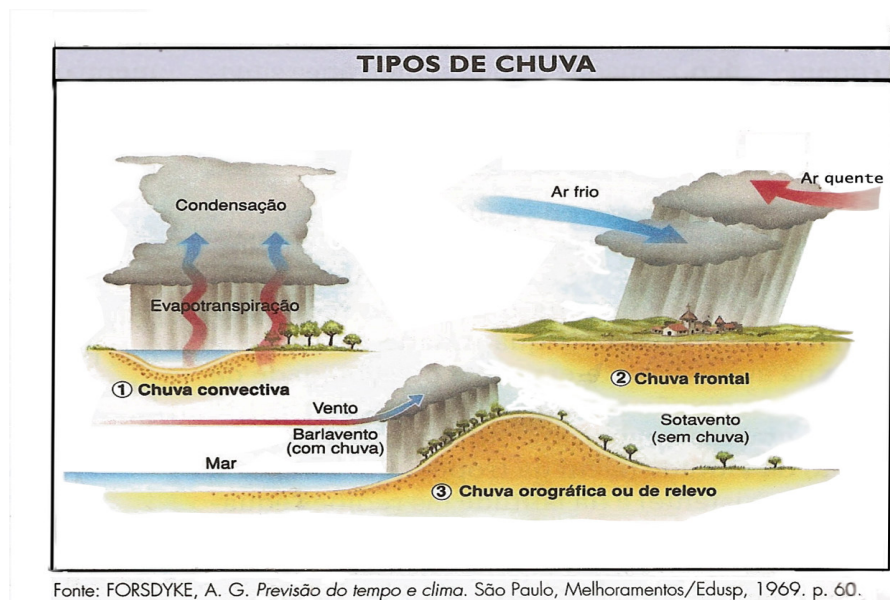
31ª QUESTÃO – É a representação da Terra que mais se aproxima da realidade. Sua forma é semelhante á da Terra e nele se vêem os continentes e oceanos em suas posições relativas reais. Marque Corretamente a alternativa que corresponde ao texto:

- A. () Ábaco.
- B. () Globo Terrestre.
- C. () Paralelos.
- D. () Mapa.

32ª QUESTÃO – Marque a alternativa CORRETA.

- A. () O território brasileiro é formado, basicamente por curvamentos côncavos e convexos do terciário.
- B. () O território brasileiro é formado por movimentos orogênicos responsáveis pela formação das cordilheiras.
- C. () O território brasileiro é formado por dois tipos de estruturas geológicas: escudos cristalinos e bacias sedimentares.
- D. () O território brasileiro é formado por áreas instáveis sujeitas a vulcanismos e terremotos.

33ª QUESTÃO – Observe a figura:
Marque a alternativa CORRETA.



- A. () Chuva frontal é o tipo de chuva que resulta da ascensão vertical do ar, que, ao entrar em contato com as camadas de ar frio, sofre condensação e se precipita.
- B. () Chuva convectiva de verão ou equatorial resulta do encontro de uma massa de ar frio com uma massa de ar quente.
- C. () Chuva de deslocamento horizontal é geralmente forte, rápida, acompanhada de trovões e às vezes de granizo.
- D. () Chuva orográfica é resultante do deslocamento horizontal do ar, que, ao entrar em contato com as regiões elevadas (serras e montanhas), sofre condensação e conseqüentemente precipitação.

PROVA DO PROCESSO SELETIVO INTERNO PARA ADMISSÃO AO CURSO DE TRIPULANTE OPERACIONAL POLICIAL E DE DEFESA CIVIL PARA O ANO DE 2009.

34ª QUESTÃO – Marque a alternativa CORRETA.

Em um mapa de escala 1:200.000, significa que cada unidade de distância no mapa corresponde no terreno a:

- A. () 200.000 unidades.
- B. () 220.000 unidades.
- C. () 2000 cm.
- D. () 20.00 cm.

35ª QUESTÃO – O mapa é a representação da Terra ou partes dela numa superfície plana e constitui ferramenta importante para a apresentação espacializada de informações. Como o mapa é infinitamente menor que a Terra, necessitamos de uma escala que indique a proporção entre ele e o nosso planeta. Considerando as escalas 1:5.000.000 e 1:100.000, é correto afirmar que:

- A. () A primeira é uma pequena escala e a segunda é uma grande escala.
- B. () A primeira é uma grande escala e a segunda é uma pequena escala.
- C. () As escalas são grandes.
- D. () As escalas são pequenas.

36ª QUESTÃO – Marque a alternativa CORRETA.

São linhas em um mapa que unem pontos de igual pluviosidade:

- A. () Isóbaras.
- B. () Isotermas.
- C. () Isoietas.
- D. () Isógonas.

37ª QUESTÃO – É correto afirmar que:

- A. () O Trópico de Capricórnio está localizado na porção setentrional do globo terrestre.
- B. () A linha do Equador corresponde ao círculo mínimo, perpendicular ao eixo terrestre, que determina a divisão do globo em dois hemisférios, o Meridional e o Austral.
- C. () O meridiano de zero grau ou de referência, que passa pelo subúrbio de Greenwich, em Londres, divide a Terra nos hemisférios Boreal e Oriental.
- D. () Coordenadas Geográficas são um conjunto de linhas imaginárias que servem para localizar um ponto ou um acidente geográfico na superfície terrestre.

38ª QUESTÃO – Marque a alternativa CORRETA:

O Aparelho utilizado para medir a pressão atmosférica chama-se:

- A. () Higrômetro.
- B. () Pluviômetro.
- C. () Anemômetro.
- D. () Barômetro.

PROVA DO PROCESSO SELETIVO INTERNO PARA ADMISSÃO AO CURSO DE TRIPULANTE OPERACIONAL POLICIAL E DE DEFESA CIVIL PARA O ANO DE 2009.

39ª QUESTÃO – Marque a alternativa CORRETA: É uma sucessão habitual dos tipos de tempo num determinado lugar. Equivale a um padrão geral das condições atmosféricas, às variações das estações do ano em uma região durante um período de mais ou menos 30 anos. O texto refere-se:

- A. () Ao tempo e condições meteorológicas.
- B. () Ao clima.
- C. () Ao solo e às condições atmosféricas.
- D. () Ao relevo e seus agentes.

40ª QUESTÃO – Marque a alternativa CORRETA:

Com espessura de aproximadamente 600 quilômetros, a atmosfera é a camada gasosa que envolve e acompanha a Terra em todos os seus movimentos, devido da força gravidade. É composta por vários gases, como Nitrogênio 78%, oxigênio 21%, argônio 0,93%, outros gases 0,1%.

A Camada da atmosfera que atinge até cerca de 10 quilômetros de altitude e concentra 75% dos gases e 80% da umidade atmosférica que forma as nuvens (nessa camada ocorrem as perturbações atmosféricas: chuva, ventos, neve, granizo), é denominada:

- A. () Troposfera.
- B. () Estratosfera.
- C. () Ionosfera.
- D. () Mesosfera.

PROVA DO PROCESSO SELETIVO INTERNO PARA ADMISSÃO AO CURSO DE TRIPULANTE OPERACIONAL POLICIAL E DE DEFESA CIVIL PARA O ANO DE 2009.

----- corte aqui-----

RASCUNHO – GABARITO

1	2	3	4	5	6	7	8	9	10	11	12	13	14	15	16	17	18	19	20
21	22	23	24	25	26	27	28	29	30	31	32	33	34	35	36	37	38	39	40